


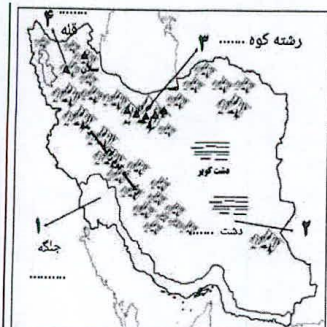


<p>۱-۲</p>	<p>نوبت اول دی ماه ۱۴۰۱ پایه: هفتم شماره دانش آموزی: مدت زمان آزمون: ۶۰ دقیقه تاریخ امتحان: ۱۴۰۱/۱۰/۱۲</p>	<p>باسمه تعالی اداره کل آموزش و پرورش استان کرمان سازمان ملی پرورش استعداد های درخشان اداره آموزش و پرورش شهرستان رفسنجان دبیرستان دوره اول فرزنانگان سال تحصیلی ۱۴۰۲ - ۱۴۰۱</p>	 <p>نام درس: مطالعات اجتماعی نام و نام خانوادگی:  نام دبیر: فاطمه مهدیزاده نام طراح: فاطمه مهدیزاده</p>
<p>۳</p>			<p>فصل اول</p> <p>۱- این جمله بیانگر کدام یک از گزینه های زیر است؟ ((همانطور که ما حق داریم پدر و مادر معلم و... نیز حق بر ما دارند)) الف- حقوق طبیعی      ب- حقوق یکسان      ج- حقوق متقابل      د- حقوق اجتماعی ۲- همه افراد می توانند به تنهایی زندگی کنند.      ص      <input type="checkbox"/>      غ ۳- خانواده در حدی که      دارد وسایل زندگی مرا فراهم می کند تا به خوبی رشد کنم. ۴- شکرگزاری، استفاده صحیح از نعمت ها، ۵- من در برابر چه چیز چه کسانی مسئول هستم؟ ۱ ۶- چه زمانی به یک فرد مسئولیت پذیر می گویند؟ ۰/۵ ۷- تبعه یک کشور بودن یعنی چه؟ ۰/۵</p>
<p>۳</p>			<p>فصل دوم</p> <p>۱- آقای حسینی می خواهد در انتخابات مجلس به عنوان کاندیدا ثبت نام کند. صلاحیت او باید توسط کدام نهاد تأیید شود تا او بتواند تبلیغات کند و مردم به او رای بدهند. الف- رهبر      ب- مجلس خبرگان      ج- شورای نگهبان      د- قوه قضائیه ۲- قانون اساسی کشور ما بر اساس اصول اسلامی تدوین شده است.      ص      <input type="checkbox"/>      غ ۳- مآتا آن جا می توانیم حق خود را اعمال کنیم که ۴- نمایندگان پس از انتخاب شدن برای شروع کار خود، در مجلس ۵- قانون چیست؟ ۰/۵ ۶- قانون و مقررات به چند دلیل به وجود آمده است (۲ مورد) ۰/۵ ۷- کار مجمع تشخیص مصلحت نظام چیست؟ ۰/۵ ۸- نمایندگان مجلس شورای اسلامی برای چه مدت و چگونه انتخاب می شوند؟ ۰/۵</p>
<p>۳/۵</p>			<p>فصل سوم</p> <p>۱- دریافت هزینه های پزشکی مانند عمل جراحی ... مربوط به کدام نوع از بیمه ها می شود. الف - بیمه بهداشت و درمان      ب- بیمه عمر      ج- بیمه از کار افتادگی      د- بیمه بیکاری ۲- کدام موسسه در زمان وقوع حوادث طبیعی یا جنگ ها به کمک مردم می شتابد؟ الف - کمیته امداد      ب- هلال احمر      ج- تامین اجتماعی      د- بهزیستی ۳- خداوند همدلی و انسان دوستی را در سرشت ما انسان ها قرار داده است.      ص      <input type="checkbox"/>      غ ۴- موسسه ای که شما را بیمه کرده است ۵- دو وظیفه بیمه مرکزی را بنویسید؟ ۰/۵ ۶- بیمه چیست؟ ۰/۵ ۷- انواع بیمه را نام ببرید؟ ۰/۵ ۸- همیاری یعنی چه؟ ۰/۵ ۹- سازمان جوانان هلال احمر چه سازمانی است؟ ۰/۵</p>

۳/۵	<p>۱- کدام یک از موارد زیر به حقوق مصرف کننده ها مربوط نمی شود؟  الف- تصویب قوانین ومقررات ب- استاندارد ج- برچسب مشخصات کالا د- مصرف گرانی  ۲- اسراف و ریخت وپاش گناهی بزرگ است . ص <input type="checkbox"/> غ <input type="checkbox"/>  ۳- توزیع در لغت به معنی است  ۴- کسی که کالا وخدمات را به منظور رفع نیازها وخواسته های خود می خرد ،  ۵- عوامل تولید را نام ببرید؟ ۰/۷۵  ۶- مشاغل و فعالیت های اقتصادی در چندگروه طبقه بندی می شوند؟ ۰/۷۵  ۷- درجه صورت نشان مخصوص استاندارد روی یک کالا چاپ می شود؟ ۰/۵  ۸ - مفهوم هریک از علائم زیر را بنویسید. ۰/۵</p>  	تصنيف چهارم
۲/۵	<p>۱- برای تهیه نقشه های جغرافی از کدام یک از عکس های زیر استفاده می کنند؟  الف- معمولی ب- هوایی ج- دیجیتالی د- ماهواره ای  ۲- سواد جزو ویژگی های طبیعی است. ص <input type="checkbox"/> غ <input type="checkbox"/>  ۳- با استفاده از می توانیم فاصله واقعی مکان ها را روی زمین محاسبه کنیم.  ۴- ایران در قاره آسیا قرار دارد.  ۵- نقشه چیست؟ ۰/۵  ۶- کوهپایه چیست؟ ۰/۵  ۷- دامنه شمالی و جنوبی رشته کوه البرز را باهم مقایسه کنید؟ ۰/۵</p>	تصنيف پنجم
۲/۵	<p>۱- مهمترین وظیفه سازمان حفاظت از محیط زیست کدام است ؟  الف- شناسایی گونه های مختلف گیاهان ب- جلوگیری از آلودگی هوا  ۲- در ناحیه معتدل خزری اختلاف دمای شب وروز زیاد است. ص <input type="checkbox"/> غ <input type="checkbox"/>  ۳- میزان بارش یک ناحیه را با نمودار نشان می دهند.  ۴- مطابق اصل ۵۰ قانون اساسی ، حفاظت از محیط زیست وظیفه  ۵- زیستگاه را تعریف کنید؟ ۰/۵  ۶- دو مورد از مناطق حفاظت شده ایران را نام ببرید؟ ۰/۵  ۷- چرا در ناحیه گرم وشرجی سواحل جنوب ایران حالت شرجی به وجود می آید؟ ۰/۵</p>	تصنيف ششم
۲	<p>نام محل های مشخص شده روی نقشه را بنویسید</p> 	نقشه
	<p>نمره با عدد:  نمره با حروف:</p>	
	<p>امضاء:  نام ونام خانوادگی مصحح:</p>	

فضل اول

- ۱- ج
- ۲- غلط
- ۳- توان مالی
- ۴- قدر لغت ها را داشتن
- ۵- خداوند - خرم - دیران - محیط زندگی و عالم آفرین
- ۶- دقت نوری و لطیف و تکلیف خود را خوب انجام می دهد و کوشش او فرستادگی پذیر است .
- ۷- تبعه یک کشور بران یعنی تعلق به آن کشور داشتن و اقوامین و مقدرات آن کشور بر او گران .

فضل دوم

- ۱- ج
- ۲- صحیح
- ۳- معایر قانون
- ۴- اداری سولند
- ۵- هرگاه مقررات به وسیله یک نهاد دارای صلاحیت مثل مجلس تصویب شود ، نام « قانون » به خود می گیرد .
- ۶- برقراری نظم - حفظ حقوق افراد .
- ۷- در مواردی که شورای نگهبان در مجلس شورای اسلام به توافق در باره تصویب یک قانون نمی رسند ، جمع تشخیص صحت نظام تعیین می نماید .
- ۸- به مدت ۱۱ سال از سوی مردم مناطق مختلف کشور .




فضل سوم

- ۱- الف
- ۲- ب
- ۳- صحیح
- ۴- بیمه ( بیمه نادر )
- ۵- بیمه مرکزی قوانین و مقررات لازم برای موسسات بیمه تدوین می کند و هدایت و نظارت بر فعالیت و عملکرد آنها به عهده دارد .
- ۶- بیمه یک قرارداد بین بیمه گر و بیمه شونده است ، موسسه بیمه گر تعهد می کند در قبال دریافت حق بیمه از بیمه شونده خسارت های ناشی از حوادث مشخص را جبران کند .
- ۷- بیمه ایاری و اقبیاری .
- ۸- معنی سن از درک احساس فردانه ریه گردد او شبکایم .
- ۹- جمعیت هلال احمر مجلسی بنام سازمان جوانان هلال الاحمر در دانش آموزان یا دانشجو ها را در به طور داوطلب عضو این سازمان می کند برای کمک به هلال الاحمر می بینند .

فصل چهارم

- ۱- د
- ۲- مصعب
- ۳- بخش کردن
- ۴- معرفت کننده
- ۵- منابع طبیعی - سرمایه - نیروی انسانی
- ۶- کف و زری - صنعت - خدمات
- ۷- اگر کیفیت کارایی توسط زمان ملی استاندارد ایران تأیید شود، نشان کشور استاندارد درون ~~کتاب~~ چاپ می شود.



علامت استاندارد

می تواند بازیافت شود.

فصل پنجم

- ۱- ب
- ۲- ؟ [استباه ناسی]
- ۳- مقیاس خطه
- ۴- جنوب غرب
- ۵- نقشه وسیله مهم جغرافیا است زیرا از طریق آن اطلاعات زیاده به دست می آوریم. نقشه ها کلی و دقیق دیده های طبیعی مانند کوه - رود - جنگل و پدیده ها را نشان می دهد. راه های مایل ها و سدها را نشان می دهند.
- ۶- زمین های حاصلخیز و آب و هوای گرم و باران زیاد در مناطق جلگه ها و دشت ها مرسوم است.
- ۷- دامنه های شمالی: رو به دریا است، برف و باران فراوان می بارد، پوشش گیاهی از جنگل های انبوه است. دامنه های جنوبی: کم رطوبت، فقط در فصل زمستان برف و باران دریافت می کنند، پوشش گیاهی کمتر است.

فصل ششم

- ۱- ج
- ۲- غلط
- ۳- ستونی
- ۴- بخوس
- ۵- منطقه نیریز که در آن گودالی از لیا مان و جانوران خاص زندگی می کنند.
- ۶- منطقه جنگل های صحرای آب های خلیج فارس و دشت اژدر فارس و استانته انلوه در لرستان.
- ۷- ~~زیادتی از این نوع گیاهان در مناطق جلگه ها و دشت ها مرسوم است.~~ چون به دلیل وجود دریا و تنگه ای با آن نم هوای باران است حالت شرجی بوجود می آید.

نقشه

- ۱- خوزستان
- ۲- لوت
- ۳- البرز
- ۴- هند